










































































|  |   |
|--|---|
| <p>3sourislibres.com</p> <p>   <math>+</math>  <math>= 8</math> </p> <p>  <math>+</math>  <math>= 12</math> </p> <p>  <math>-</math>  <math>= 2</math> </p> | <p>3sourislibres.com</p> <p>  <math>+</math>  <math>= 4</math> </p> <p>  <math>+</math>  <math>= 10</math> </p>     |
| <p>3sourislibres.com</p> <p>  <math>= 4</math> </p> <p>  <math>= 6</math> </p> <p>  <math>= 8</math> </p>   | <p>3sourislibres.com</p> <p>  <math>= 2</math> </p> <p>  <math>= 6</math> </p> <p>  <math>= 8</math> </p>   |
| <p>3sourislibres.com</p> <p>  <math>+</math>  <math>= 16</math> </p> <p>  <math>+</math>  <math>= 20</math> </p> <p>  <math>-</math>  <math>= 2</math> </p>  | <p>3sourislibres.com</p> <p>  <math>+</math>  <math>= 10</math> </p> <p>  <math>+</math>  <math>= 8</math> </p> |
| <p>3sourislibres.com</p> <p>  <math>= 14</math> </p> <p>  <math>= 8</math> </p> <p>  <math>= 10</math> </p>   | <p>3sourislibres.com</p> <p>  <math>= 3</math> </p> <p>  <math>= 5</math> </p> <p>  <math>= 2</math> </p>   |

Cartes à pincés Problème champ additif

|   |  |  |  |
|---|--|--|--|
|   |  |    |  |
|   |  |  |  |
|    |  |  |  |
|  |  |  |  |
|   |  |  |  |
|   |  |  |  |

|   |  |
|---|--|
| <p> + 5 = 8</p> <p> +  = 12</p> <p> -  = 2</p> <p><small>3sourislibres.com</small></p>       | <p> + 5 = 15</p> <p> +  = 22</p> <p> -  = 4</p> <p><small>3sourislibres.com</small></p>       |
| <p> = 6</p> <p> = 7</p> <p> = 8</p>  | <p> = 2</p> <p> = 6</p> <p> = 8</p>  |
| <p>4 +  = 18</p> <p>6 +  = </p> <p> - 5 = </p> <p><small>3sourislibres.com</small></p> | <p> + 7 = 15</p> <p>4 +  = </p> <p> -  = 10</p> <p><small>3sourislibres.com</small></p> |
| <p> = 15</p> <p> = 10</p> <p> = 8</p>  | <p> = 2</p> <p> = 3</p> <p> = 5</p>  |

Cartes à pincés Problème champ additif

|   |  |  |  |
|---|--|--|--|
|   |  |    |  |
|   |  |  |  |
|    |  |  |  |
|   |  |  |  |
|   |  |  |  |
|  |  |  |  |

$$1 + 3 =$$



$$5 + =$$



3sourislibres.com

$$= 9$$



$$= 7$$



$$= 6$$



$$2 + 4 =$$



$$3 + =$$



3sourislibres.com

$$= 6$$



$$= 7$$



$$= 9$$



$$2 + = 5$$



$$+ = 10$$



3sourislibres.com

$$= 8$$



$$= 7$$



$$= 6$$



$$4 + = 6$$



$$+ = 8$$



3sourislibres.com

$$= 6$$







$$= 8$$



































$$= 4$$



Cartes à pincés Problème champ additif

|   |  |  |  |
|---|--|--|--|
|   |  |    |  |
|   |  |  |  |
|    |  |  |  |
|  |  |  |  |
|   |  |  |  |
|   |  |  |  |

|   |  |  |  |
|---|--|--|--|
| <p> + 5 = 7</p> <p> +  = 8</p> <p> + 3 = </p> <p> = 8</p> | <p> = 9</p> <p> = 10</p> | <p>4 +  = 9</p> <p>3 +  = </p> <p> + 6 = </p> <p> = 14</p> | <p> = 10</p> <p> = 8</p> |
| <p> + 5 = 9</p> <p> +  = 10</p> <p> + 2 = </p> <p> = 2</p>           | <p> = 6</p> <p> = 8</p>      | <p> + 7 = 13</p> <p>4 +  = </p> <p> +  = 12</p> <p> = 2</p>           | <p> = 3</p> <p> = 5</p>      |





3sourislibres.com

3sourislibres.com

3sourislibres.com

3sourislibres.com

Cartes à pincés Problème champ additif

|   |  |  |  |
|---|--|--|--|
|   |  |    |  |
|   |  |  |  |
|    |  |  |  |
|   |  |  |  |
|   |  |  |  |
|  |  |  |  |